



## भाग क: वाचन ( एकूण 5० गुण )

प्रश्न 1: दिलेली अक्षरे शब्दांत ओळखून त्या अक्षरांना गोल करा.






1 X 6 = 6

- 1) (ल) - (ला)दा (मु)लकंद (पे)न्सिल
- 2) (ख) - (ख)तारा (पा)खरू (प)ख

(प्रत्येक ओळखलेल्या अचूक अक्षरास 1 गुण याप्रमाणे सहा अक्षरास 6 गुण द्यावेत.)

प्रश्न 2: शब्द व चित्र यांच्या रेषा ओढून जोड्या लावा.

1 X 5 = 5

लाडू	
खेळणी	
गाय	
काकडी	
तबला	

(शब्द व चित्र यांच्या प्रत्येक अचूक जोडीस 1 गुण याप्रमाणे पाच जोड्यांना 5 गुण द्यावेत.)

प्रश्न 3: चित्रात दिसणाऱ्या चार वस्तूंच्या नावास गोल करा. 2X4 =8



(गवताचा भारा, झाड, पाऊस, पाणी, मुलगी, गाय )

(प्रत्येक अचूक गोल केलेल्या वस्तूंच्या नावाला 2 गुण याप्रमाणे 4 अचूक उत्तरास 8 गुण द्यावेत.)

प्रश्न 4 : वाक्यांशाच्या दोन योग्य भागांना रेषेने जोडा.

2 X 5 = 10

- |             |                                    |
|-------------|------------------------------------|
| 1) पाणी     | क) कचराकुंडीतच टाका.               |
| 2) डोळे     | ख) पैसे कधीही काढता येतात.         |
| 3) मतदान    | ग) आपले जीवन आहे.                  |
| 4) ATM मधून | घ) स्वच्छ पाण्याने धुतले पाहिजेत.× |
| 5) कचरा     | ड) आपला अधिकार आहे.                |

( प्रत्येक वाक्यांशाच्या भागांच्या अचूक जोडीस 2 गुण याप्रमाणे पाच जोड्यांना 10 गुण द्यावेत)

प्रश्न 5:पोस्टर वाचा आणि दिलेल्या योग्य वाक्यासमोर (✓) आणि अयोग्य वाक्यासमोर (x) अशी खूण करा. 3 X 3 = 9



- 1) स्वच्छतेच्या सवयी अंगीकारा.( ✓ )
- 2) घरातील केर-कचरा रस्त्यावर टाकावा. ( x )
- 3) शौचालयाचा नियमित वापर करा. ( ✓ )

( प्रत्येक अचूक उत्तरास 3 गुण याप्रमाणे तीन अचूक उत्तरास 9 गुण द्यावेत)

प्रश्न 6: उतारा वाचा आणि दिलेल्या वाक्यासमोर योग्य (✓) किंवा अयोग्य (x) अशी खूण करा. 2 X 6 = 12

मला माझा व्यवसाय सुरु करण्यासाठी पैशांची गरज होती.मग कोणीतरी मला पंतप्रधान मुद्रा कर्ज योजनेबद्दल सांगितले. या योजनेतर्गत पात्र लाभार्थ्यांना कर्ज मिळू शकते.कर्ज मिळणे अगदी सोपे आहे.त्यासाठी मुद्रा योजनेसाठी तयार करण्यात आलेल्या वेबसाईटवर जाऊन आवश्यक माहिती अर्जामध्ये भरावी लागते .नंतर त्या अर्जाची प्रिंट घेऊन आणि बँकेत जमा करावी लागते . कर्ज मंजूर झाल्यावर पैसे थेट बँक खात्यात जमा होतात .

- 1) व्यवसाय सुरु करण्यासाठी मुद्रा कर्ज उपलब्ध आहे. ( ✓ )
- 2) अर्ज बँकेत जमा करण्याची आवश्यकता नाही . ( x )
- 3) एकदा कर्ज मंजूर झाल्यावर पैसे थेट बँक खात्यात जमा होतात. ( ✓ )
- 4) मुद्रा कर्जासाठी अर्ज भरावा लागेल.( ✓ )
- 5) कर्जाचा अर्ज बँकेत जमा करावा लागेल. ( ✓ )
- 6) मुद्रा कर्ज मिळणे खूप कठीण आहे. ( x )

( प्रत्येक अचूक उत्तरास 2 गुण याप्रमाणे सहा अचूक उत्तरास 12 गुण द्यावेत)

## भाग ख: लेखन (एकूण 5० गुण)

प्रश्न 1 : दिलेल्या अक्षरांपासून एक-एक शब्द तयार करून लिहा.

2X3=6

- 1) ई - –“ई” हे अक्षर वापरून तयार केलेल्या कोणत्याही एका अर्थपूर्ण शब्दास 2 गुण द्यावेत.
- 2) स –“स” हे अक्षर वापरून तयार केलेल्या कोणत्याही एका अर्थपूर्ण शब्दास 2 गुण द्यावेत.
- 3) प- –“प” हे अक्षर वापरून तयार केलेल्या कोणत्याही एका अर्थपूर्ण शब्दास 2 गुण द्यावेत.

प्रश्न 2: चित्र पाहून त्याचे नाव लिहा.

2X5=10



.....टाय .....




.....टिॱ्ही..



.....टबूज



.....दोरी .....



.....नळ .....

प्रत्येक बरोबर उत्तरास 2 गुण देण्यात यावे.

प्रश्न 3: योग्य शब्द निवडून वाक्य पूर्ण करा .

2X4=8

( हेल्मेट योग लिंक लसीकरण )

- 1) कोणत्याही अनोळखी व्यक्तीने पाठवलेल्या **लिंक** .....वर क्लिक करू नये.
- 2) ..... **योग**..... केल्याने आरोग्य चांगले राहते.
- 3) मुलांना वेळेवर ..... **लसीकरण**..... करावे.
- 4) गाडी चालवताना नेहमी ..... **हेल्मेट**..... वापरा.

( प्रत्येक अचूक उत्तरास 2 गुण याप्रमाणे चार अचूक उत्तरास 8 गुण द्यावेत)

प्रश्न 4: दिलेल्या शब्दांपासून वाक्य तयार करा.

3X3=9

- 1) दिवाळी - ' हा शब्द वापरून तयार केलेल्या कोणत्याही एका अर्थपूर्ण वाक्यास 3 गुण द्यावेत
- 2) नुकसान - ' हा शब्द वापरून तयार केलेल्या कोणत्याही एका अर्थपूर्ण वाक्यास 3 गुण द्यावेत
- 3) विचित्र - ' हा शब्द वापरून तयार केलेल्या कोणत्याही एका अर्थपूर्ण वाक्यास 3 गुण द्यावेत

प्रश्न 5: आपल्या मित्राचे व वडिलांचे नाव लिहा .

1X2=2

- 1) मित्राचे नाव- 1गुण.....
- 2) वडिलांचे नाव- 1गुण .....

.....प्रत्येक बरोबर उत्तरास 1 गुण देण्यात यावा.....

प्रश्न 6: चित्र पहा व चित्रासंबधी पाच वाक्ये लिहा.

3X5=15



क)-----

ख)-----

ग)-----

घ)-----


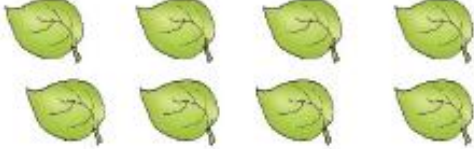




ड)-----

चित्रावर आधारीत प्रत्येकी एका अर्थपूर्ण वाक्यास 3 गुण,  
याप्रमाणे पाच वाक्यास (3 × 5 =15) गुण द्यावेत.  
बोलीभाषेतून लिहिलेल्या अर्थपूर्ण  
वाक्यासही पूर्ण गुण द्यावेत.



# भाग ग : गणित (संख्याज्ञान) एकूण 5० गुण

प्रश्न 1 : चित्रे व संख्या यांच्या रेषा ओढून जोड्या जुळवा.  $1 \times 6 = 6$

	1
	5
	2
	3
	4
	8

Blue arrows connect the images to the numbers: 3 envelopes to 3, 8 leaves to 8, 5 wardrobes to 5, 1 lizard to 1, 2 lions to 2, and 4 cups to 4.







प्रश्न 2 : क्रम पूर्ण करा.

1X 5=5

45	<u>50</u>	55	60
17	16	<u>15</u>	14
11	<u>12</u>	13	14
15	20	<u>25</u>	30
<u>13</u>	15	17	19

प्रश्न 3: वस्तूंच्या किमतीशी नोटा व नाण्यांच्या जोड्या लावा.

1X 3=3

 ₹ 200	
 ₹ 55	
 ₹ 20	

(वस्तूंची किंमत आणि किंमत दर्शविणाऱ्या नोटा/ नाणी यांच्या प्रत्येक अचूक जोडीस 1 गुण याप्रमाणे तीन अचूक जोड्यांना 3 गुण द्यावेत)

प्रश्न 4 : उदाहरणे सोडवा.

2X 4=8

क)  $\begin{array}{r} 46 \\ +12 \\ \hline \end{array}$

58

ख)  $\begin{array}{r} 55 \\ -31 \\ \hline \end{array}$

24

ग)  $\begin{array}{r} 15 \\ \times 4 \\ \hline \end{array}$

60

घ)  $\begin{array}{r} 8 \\ 3 \overline{)24} \\ -24 \\ \hline \end{array}$

00

(प्रत्येक उदाहरणाच्या अचूक उत्तरास 2 गुण याप्रमाणे 4 उदाहरणांना 8 गुण द्यावेत.)

प्रश्न 5: सोडवा

क) उमाच्या डब्यात 50 रु.च्या 9 नोटा व 20 रु.च्या 7 नोटा आहेत तर तिच्या डब्यात एकूण किती रुपये आहेत? 1X4=4

$$\begin{array}{l} 50 \text{ रु.} \times 9 \text{ नोटा} = 450 \text{ रु.} \\ + 20 \text{ रु.} \times 7 \text{ नोटा} = 140 \text{ रु.} \end{array}$$

= 590 रु

उदाहरणाच्या मांडणीस- 1 गुण  
590 या उत्तरास- 3 गुण  
एकूण - 4 गुण

ख) पार्वतीला दररोज तीन गोळ्या खायच्या आहेत. तिच्याकडे 15 गोळ्याचे पाकीट असल्यास तिला या गोळ्या किती दिवस पुरतील? 1X4=4

$$15 \div 3 = 5 \text{ दिवस}$$

उदाहरणाच्या मांडणीस- 1 गुण  
5 या उत्तरास- 3 गुण  
एकूण - 4 गुण

प्रश्न 6 : रिकाम्या जागी योग्य शब्द लिहा.

2X4=8

क) 1000 ग्रॅम =  किलोग्रॅम.

ख) 1 लीटर =  मिलीलीटर .

ग) 1 डझन आंबे =  आंबे.

घ) 500 मीटर =  किलोमीटर.

(प्रत्येक अचूक उत्तरास 2 गुण द्यावेत. याप्रमाणे 4 अचूक उत्तरास 8 गुण द्यावेत)

प्रश्न 7 : दिलेल्या घड्याळातील वेळ पाहून लिहा.

2X4=8



21:30

वाजून  मिनिट

वाजून  मिनिट

(प्रत्येक अचूक उत्तरास 2 गुण द्यावेत. याप्रमाणे 4 अचूक उत्तरास 8 गुण द्यावेत)

नोव्हेंबर 2023					
रविवार		5	12	19	26
सोमवार		6	13	20	27
मंगळवार		7	14	21	28
बुधवार	1	8	15	22	29
गुरुवार	2	9	16	23	30
शुक्रवार	3	10	17	24	
शनिवार	4	11	18	25	

1. या महिन्यात एकूण किती गुरुवार आहेत?

5/पाच

2. या महिन्यात किती रविवार आले आहेत?

चार / 4

3. 5 नोव्हेंबरला कोणता वार आहे? -----

रविवार

4. या महिन्याच्या दुसऱ्या सोमवारी किती तारीख आहे? ----

13/तेरा

(प्रत्येक अचूक उत्तरास 1 गुण द्यावा. याप्रमाणे 4 अचूक उत्तरास 4 गुण द्यावेत)